

ALARM



TEST PRO CYKLISTRY

Leden 2009



Číslo projektu: 1F44/L/058/050
Zadavatel: Ministerstvo dopravy
Styčný pracovník: Ing. Blanka Sunkovská
Datum: leden 2009

Zodpovědný řešitel: Mgr. Iva Provalilová
Spoluřešitelé: Mgr. Zuzana Strnadová



Testové otázky

Otázka: 1.	Po silnici vedeš kolo. Musíš dodržovat pravidla silničního provozu?	
Odpovědi:	a)	Ano, ale nemusím mít na hlavě cyklistickou přilbu.
	b)	Ne, pravidla platí jen pro jízdu na kole.

Otázka: 2.	Na silnici můžeš sám jezdit od:	
Odpovědi:	a)	10 let.
	b)	10 let, jen pokud mám „Průkaz cyklisty“.
	c)	15 let.

Otázka: 3.	Na kole ještě neumíš dobře jezdit. Můžeš jet se staršími kamarády na výlet po silnici?	
Odpovědi:	a)	Pokud dokonale neovládám řízení kola, nesmím na silnici ani v doprovodu osoby starší 15 let.
	b)	Pokud mne doprovází kamarád, který je starší 15ti let, mohu i když mi to zatím moc nejde. Jen na silnici se naučím správně jezdit.
	c)	Pokud mám na hlavě řádně upevněnou přilbu, chrániče na kolena a lokty.

Otázka: 4.	Kamarád dostal k 9.narozeninám kolo. Ještě nikdy na kole nejel. Na svoji první jízdu chce jet se tebou na koupaliště. Cesta vede po silnici. Můžete jet?	
Odpovědi:	a)	Pokud budeme mít na hlavě cyklistickou přilbu řádně připevněnou, tak můžeme.
	b)	Kamarád na kole neumí jezdit, tak na silnici nesmí.
	c)	Nesmíme. Mně ani kamarádovi ještě není 10 let a kamarád neumí jezdit na kole.

Otázka: 5.	Pokud jedeš na kole:	
Odpovědi:	a)	Musím jet jen tak, abych nepřecenil svoje schopnosti řídit kolo.
	b)	Nesmím jezdit za deště.
	c)	Nikdy nesmím řídit jen jednou rukou.

Otázka: 6.	Pokud jedeš na kole:	
Odpovědi:	a)	Jízdou nesmím ohrožovat žádné osoby a zvířata.
	b)	Musím mít u sebe „Průkaz cyklisty“.
	c)	Nemusím se řídit pokyny Policie.

Otázka: 7.	Jsi povinen, jako cyklista, uposlechnout pokynů policisty, který řídí provoz na křižovatce?	
Odpovědi:	a)	Ano, platí pro mne vše, co platí pro ostatní účastníky v dopravě.
	b)	Pro chodce a cyklisty neplatí povinnost uposlechnout pokynů policisty.



Otázka: 8.	Tvoji povinností, než si vyješ na kole, je:	
Odpovědi:	a)	Vypůjčím si od tatínka cyklistickou přilbu, nasadím si ji na hlavu a pevně upevním, protože je mi trochu větší. Kolo musím mít povinně vybaveno zadním blatníkem.
	b)	Jako povinnou výbavu musím mít na ruku oblečené cyklistické rukavice.
	c)	Správně si nasadím na hlavu cyklistickou přilbu schváleného typu, kterou si řádně upevním. Musí být mojí velikosti.

Otázka: 9.	Na kole Ti praskl řetěz. Nejde spravit. Kolo musíš vést po:	
Odpovědi:	a)	Po pravé straně vozovky, co nejbliž kraji nebo pokud neohrozím chodce, tak mohu použít i chodník.
	b)	Musím jít po levé straně vozovky nebo po levé krajnici. Platí pro mne stejná povinnost jako pro chodce.
	c)	Pokud neohrozím auta, mohu si vybrat levou nebo pravou stranu silnice.

Otázka: 10.	Jedeš na kole domů. Je večer. Vozovku dostatečně osvětluje pouliční osvětlení. Musíš mít rozsvícená světla?	
Odpovědi:	a)	Musím mít rozsvícen světlomet bílé barvy, který svítí dopředu a vzadu svítílnu se světlem červené barvy nebo přerušovaným světlem červené barvy
	b)	Místo světla mohu mít jen odrazky na předním a zadním kole. Světlo není nutné.

Otázka: 11.	Vyber nebezpečí, která znamenají pro cyklistu zvýšenou možnost pádu:	
Odpovědi:	a)	Rozsypaný štěrk v zatáčce.
	b)	Jízda na cyklistické stezce.
	c)	Jízda bez použití cyklistických rukavic.

Otázka: 12.	Vyber nebezpečí, která znamenají pro cyklistu zvýšenou možnost pádu:	
Odpovědi:	a)	Jízda na stezce pro cyklisty a chodce, s odděleným pruhem.
	b)	Obuv, která není pevná, např. „žabky“.
	c)	Pevná obuv na zavazování.

Otázka: 13.	Vyber nebezpečí, která znamenají pro cyklistu zvýšenou možnost zranění:	
Odpovědi:	a)	Pokud pro jízdu použiji cyklistické brýle.
	b)	Pevná obuv na zavazování.
	c)	Cyklistická přilba, která je mi velká.

Otázka: 14.	Pokud není na silnici vyhrazený jízdní pruh pro cyklisty, musíš jet:	
Odpovědi:	a)	Jen co nejbliž pravého okraje silnice, ale ne za plnou čarou.
	b)	Uprostřed jízdního pruhu. Jen tak se vyhnu pádu na krajnici.



	c) Pro jízdu na kole je nevhodnější jízda při středu vozovky.	
--	---	--



Otázka: 15.	Na obrázku vidíš kamarády. Při jízdě na kole si rádi povídají. Je jejich chování správné?	
Odpovědi:	a)	Ano je. Pokud mají správně nasazenou cyklistickou přilbu a ochranné rukavice.
	b)	Ne. Cyklisté na silnici nesmí jezdit vedle sebe.
	c)	Ano je. Ale nesmí zabírat na silnici více místa, než osobní automobil.

Otázka: 16.	Na obrázku vidíš kamarády. Při jízdě na kole si rádi povídají. Je jejich chování správné?	
Odpovědi:	a)	Ano je. Pokud mají správně nasazenou cyklistickou přilbu a ochranné rukavice.
	b)	Ano je. Cyklisté mohou jezdit vedle sebe.
	c)	Cyklisté nesmí jezdit vedle sebe a ani si povídat. Musí se plně věnovat řízení a sledovat provoz na silnici.



Foto: Ing. Kelnar Vratislav

Otázka: 17.	Jako cyklista se blížíš k této dopravní značce. Vysvětli význam a chování před a za dopravní značkou na obrázku:	
Odpovědi:	a)	Jedu po hlavní silnici. Nemusím dávat přednost ostatním účastníkům silničního provozu. Všichni mi musí dát přednost v jízdě.
	b)	Jedu po hlavní silnici. Nemusím dávat přednost ostatním řidičům, ale budu do křižovatky vjíždět s opatrností. Nikdy nemohu předpokládat jak se ostatní budou chovat.



Foto: Žalmánek Petr

Otázka: 18.	S jakým nebezpečím musíš počítat u této dopravní značky?		
Odpovědi:	a)	Blížím se k přechodu pro chodce a tak hlídám chování chodců, zda některý nebude přecházet vozovku .	
	b)	Musím počítat s pohybem osob ve vozovce, které poblíž pracují.	
	c)	Blížím se k místu, kde je zákaz pohybu osob ve vozovce.	

Otázka: 19.	S jakým nebezpečím musíš počítat u této dopravní značky?		
Odpovědi:	a)	Přes silnici vede nadchod pro chodce.	
	b)	Musím počítat s pohybem osob ve vozovce, které poblíž pracují..	
	c)	Blížím se k přechodu pro chodce. Dodatková tabulka pod značkou informuje o tom, že jsem u školy. Musím dá t velký pozor na děti.	



Foto: Ing. Kelnar Vratislav

Otázka: 20.	Blížíš se k přechodu pro chodce. Jak se zachováš?	
Odpovědi:	a)	Zastavím a nechám chodce bezpečně přejít přes přechod.
	b)	Pokusím se přejet přes přechod před chodcem. Vidí mne, tak počká.
	c)	Mám přednost v jízdě. Jsem na silnici a tak je povinností chodce mne nechat projet a pak teprve pokračovat v chůzi.



Foto: Ing. Kelnar Vratislav

Otázka: 21.	Jaké chování se od tebe, jako cyklisty, očekává za touto dopravní značkou?	
Odpovědi:	a)	Zastavím na hranici křižovatky, rozhlédnu se, zda nejede žádný účastník provozu a teprve až se ujistím, že nikdo nejede, pokračuji v jízdě.
	b)	Zastavím na hranici křižovatky, rozhlédnu se, zda nejede některý účastník provozu. Pokud se nebude nikdo blížit zprava, mohu do vjet křižovatky.
	c)	Zastavím na hranici křižovatky, rozhlédnu se, zda nejede některý účastník provozu. Přijíždím z vedlejší silnice a musím dát přednost všem účastníkům provozu v obou směrech.



Foto: Ing.Kelnar Vratislav

Otázka: 22.	Jako cyklista se blížíš k této dopravní značce. Vjíždíš do:		
Odpovědi:	a)	Obytné zóny. Tady mohou jezdit na kole po silnici i děti než jim bude 10 let. Taky si na silnici můžeme hrát.	
	b)	Pěší zóny, kam je zakázaný vjezd a vstup lidí a vozidel, znázorněných na obrázku	



Foto: Žalmánek Petr




Otázka: 23.	Můžeš, se jako cyklista, pohybovat na silnici pro motorová vozidla?	
Odpovědi:	a)	Ne. Po silnici pro motorová vozidla a po dálnici nesmím.
	b)	Pokud mám cyklistickou přilbu a chrániče, mohu.
	c)	Ano, je to silnice jako každá jiná.


Otázka: 24.	Má cyklista správně nasazenou přilbu?	
Odpovědi:	a)	Ano.
	b)	Ne.






Otázka: 25.	Přijíždíš k závorám, které jsou spuštěné a zvoní zabezpečovací zařízení. Vlak není ani vidět ani slyšet. Jak se zachováš?		
Odpovědi:	a)	Vlak je daleko a tak rychle přejedu na druhou stranu.	
	b)	Počkám, až přestane zvonit zvonek, ale závory jsou ještě spuštěné, pak přejedu.	
	c)	Počkám, až jsou závory otevřené a zvonek nezvoní a pak přejedu.	




Otázka: 26.		Na co si musíš dát pozor u této značky:	
Odpovědi:	a)	Na nerovnosti ve vozovce.	
	b)	Na silnici je příkop, je nutné jej objet.	
	c)	Na dvojitý zpomalovací práh.	
	d)	Na silnici je zkušební pás asfaltu.	




Otázka: 27.		Tato značka Ti oznamuje:	
Odpovědi:	a)	V blízkosti vozovky je nadchod pro chodce.	
	b)	Pozor, změna povrchu vozovky.	
	c)	Obytná zóna, pozor na pohyb chodců.	
	d)	Pozor, přechod pro chodce.	

Otázka: 28.		Správný význam této značky je:	
Odpovědi:	a)	Označení cyklostezky.	
	b)	Upozornění pro řidiče, že se blíží k místu, kde je možné potkat cyklisty.	









	c)	Zákaz vjezdu pro cyklisty.	
	d)	Označení dětského dopravního hřiště.	

Otázka: 29.	Vyber dopravní značku, která Ti přikazuje užít stezku pro cyklisty:		
Odpovědi:		a)	
		b)	
		c)	

Otázka: 30.	Vyber dopravní značku, která přikazuje chodcům a cyklistům použít společnou neoddělenou stezku:		
Odpovědi:		a)	
		b)	
		c)	



Otázka: 31.	Vyber dopravní značku, která přikazuje cyklistům použít oddělenou stezku:		
Odpovědi:		a)	
		b)	
		c)	

Otázka: 32.	Vyber dopravní značku, která Ti řekne, kde můžeš potkat ve společném jízdním pruhu i chodce:		
Odpovědi:		a)	
		b)	
		c)	

